
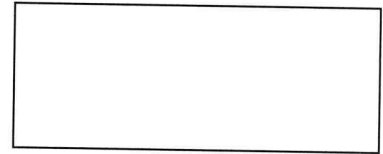


Name: _____




Übungen zur Umfangberechnung 1

- ① Miss das Rechteck ab und berechne den Umfang!



A:

- ② Miss das Quadrat ab und berechne den Umfang!



A:

- ③ Eine Viehweide wird umzäunt. Sie ist 45 m lang und 37 m breit. Der Draht soll dreifach gespannt sein. Wie viel m Draht wird benötigt? Zeichne eine Skizze.



A:

- ④ Ein quadratisches Taschentuch hat die Seitenlänge 42 cm. Gib den Umfang in m und cm an.

A:

- ⑤ Ein rechteckiges Bild ist 30 cm lang und 16 cm breit. Wie groß ist der Umfang/Rahmen?



A: