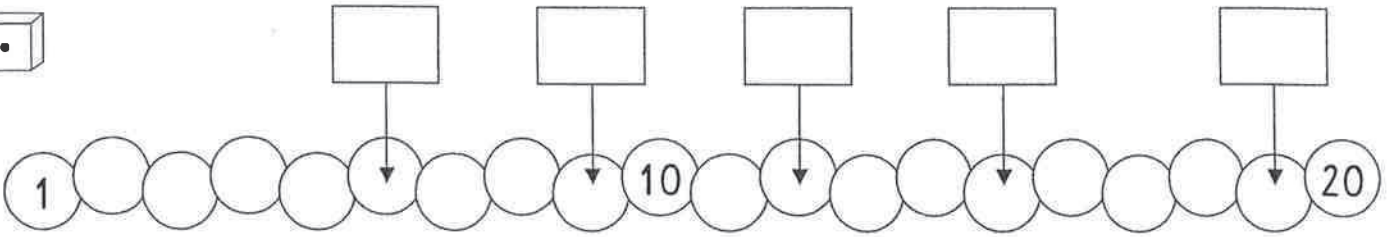


10 - 20

Name: _____

100



_____	_____	_____	_____	_____	_____



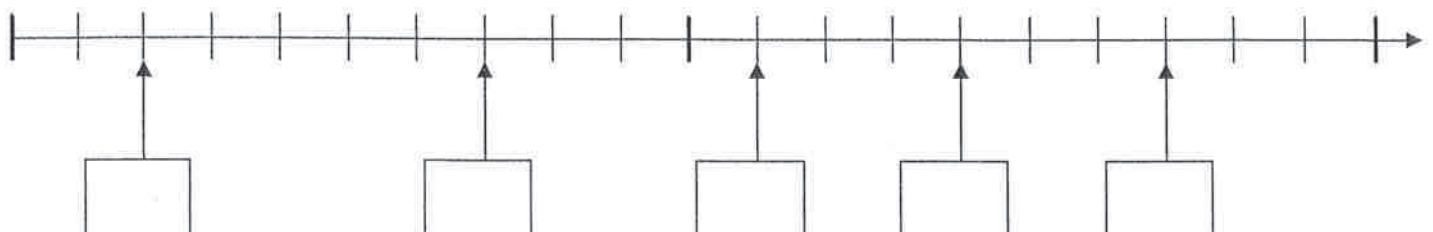
12	14	17	18	20	11



dreizehn	12	13	14
fünfzehn	11	14	15
zwölf	10	11	12
sechzehn	19	16	17
neunzehn	19	20	17



achtzehn	=	_____
siebzehn	=	_____
elf	=	_____
vierzehn	=	_____
zehn	=	_____



10 - 20

Name: _____

101

Vorgänger und Nachfolger

	12	
--	----	--

	16	
--	----	--

	19	
--	----	--

	17	
--	----	--

Zahlennachbarn

	15	
--	----	--

	11	
--	----	--

	14	
--	----	--

	18	
--	----	--

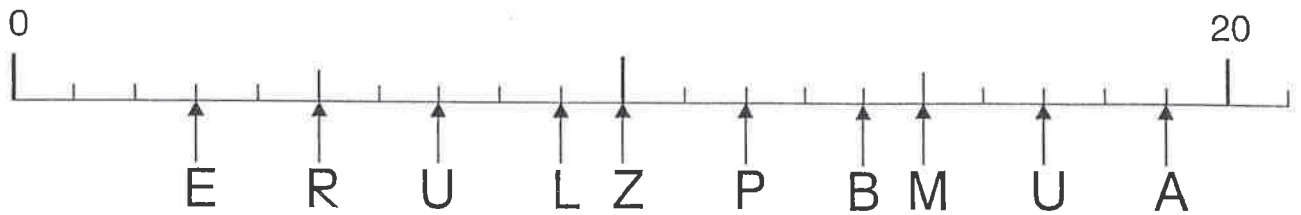


<p>U = _____</p>	<p>E = _____</p>	<p>T = _____</p>	<p>T = _____</p>	<p>G = _____</p>
<p>S = _____</p>	<p>G = _____</p>	<p>A = _____</p>	<p>R = _____</p>	<p>B = _____</p>

3	6	7	1	2	4	9	8	10	5

<p>C = _____</p>	<p>K = _____</p>	<p>L = _____</p>	<p>H = _____</p>	<p>E = _____</p>
<p>O = _____</p>	<p>D = _____</p>	<p>A = _____</p>	<p>S = _____</p>	<p>O = _____</p>

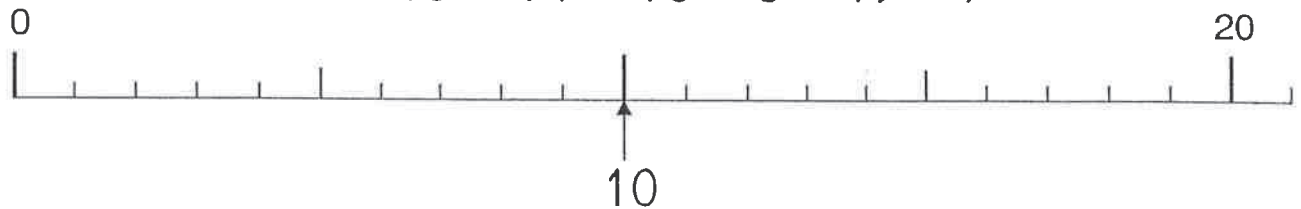
16	17	11	13	18	20	12	15	14	19

Wie heißt das Wort?

12	17	5	10	3	9	14	19	7	15

Trage die Zahlen mit einem Pfeil ein:

13 - 14 - 16 - 8 - 19 - 7

Schreibe auf:

Die Zahlen von 10 bis 16: _____

Die Zahlen von 15 bis 20: _____

Die Zahlen zwischen 12 und 18: _____

Die Zahlen zwischen 15 und 20: _____

Ordne die Zahlen:

Beginne mit der kleinsten:

13 - 18 - 11 - 20 - 15

16 - 9 - 19 - 12 - 17





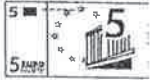



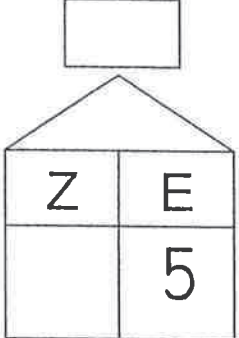






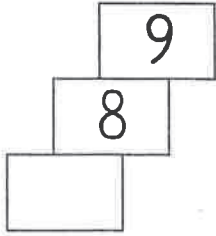
Beginne mit der größten:

17 - 10 - 20 - 12 - 14

8 - 17 - 7 - 19 - 15

Hier sind die Zahlen von 1 bis 20 dargestellt.

Schreibe sie in das Kästchen und kontrolliere unten!

<input type="text"/> .	<input type="text"/>  	<input type="text"/> $10 - 6$	<input type="text"/> 	<input type="text"/>  
<input type="text"/> nach sieben	<input type="text"/>  	<input type="text"/> sieb- zehn	<input type="text"/> 	<input type="text"/> vor siebzehn
<input type="text"/> <input type="text"/> 12 <input type="text"/> 14	<input type="text"/> 	<input type="text"/> $1Z\ 8E$	<input type="text"/>  	<input type="text"/>   
<input type="text"/> 	<input type="text"/> $5 + 4$	<input type="text"/> eins plus eins	<input type="text"/> 	<input type="text"/> $10 + 9$

1	2	3	4	5	6	7	8	9	10	11	12	13	14	15	16	17	18	19	20