


# Kilogramm, Dekagramm und Gramm

1




Ordne die Tiere nach dem Gewicht. Beginne mit dem leichtesten Tier.

Maus 25 g < Hamster 25 dag < Landschildkröte 750 g < Zwergkaninchen 2 kg < Katze 5 kg

2

Gramm oder Kilogramm?

a) Setze richtig ein.



b) Wie schwer sind alle Tiere zusammen?

26 kg 900 g

3

Setze >, < oder = ein.

240 g > 204 g  
110 dag > 1 kg  
1 000 g = 1 kg  
999 g < 100 dag

4

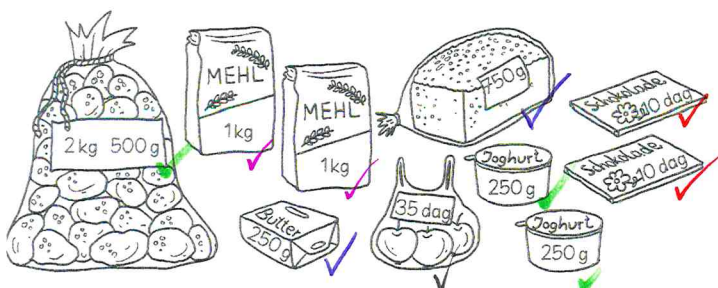
Wieviel fehlt zum nächsten vollen Kilogramm?

320 g + 680 g = 1 kg      1 kg 453 g + 547 g = 2 kg  
760 g + 240 g = 1 kg      2 kg 204 g + 796 g = 3 kg  
150 g + 850 g = 1 kg      5 kg 345 g + 655 g = 6 kg  
70 g + 930 g = 1 kg      6 kg 6 g + 994 g = 7 kg  
240 350 680 850 930      547 655 796 891 994

5

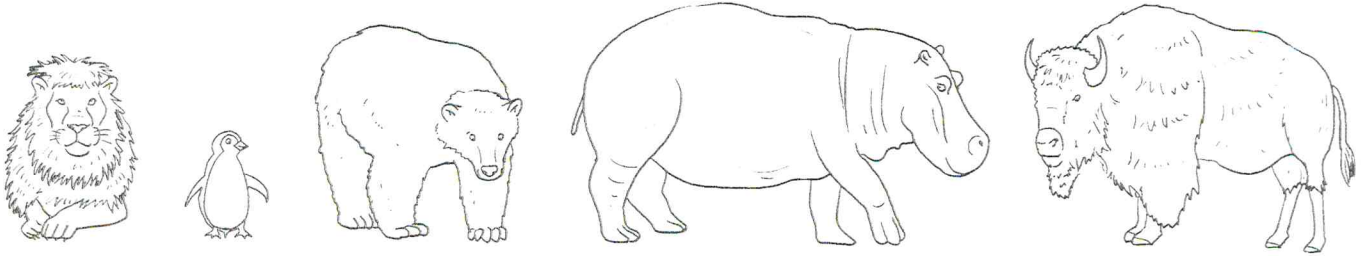
Papa hat eingekauft. Sein leerer Einkaufskorb

wiegt 800 g. Wie schwer ist der volle Einkaufskorb?



800 g + 100 g + 100 g = 1 kg  
750 g + 250 g = 1 kg  
2 kg 500 g + 250 g + 250 g = 3 kg  
1 kg + 1 kg = 2 kg  
1 kg + 1 kg + 3 kg + 2 kg + 35 dag =  
7 kg 35 dag

1



Löwe: 250 kg    Pinguin: 5 kg    Eisbär: 420 kg

Flusspferd: 3 t

Bison: 750 kg

Ordne die Tiere nach dem Gewicht. Beginne mit dem leichtesten Tier.


Pinguin 5 kg < Löwe 250 kg < Eisbär 420 kg < Bison 750 kg < Flusspferd 3 t

2 Kilogramm oder Tonne?


a) Setze richtig ein.




10 kg



3 t



7 t



370 kg

b) Wie schwer sind die Tiere zusammen?

10 t 380 kg

3 Wie viel fehlt bis zur vollen Tonne?

740 kg + 260 kg = 1 t

805 kg + 195 kg = 1 t

655 kg + 345 kg = 1 t

840 kg + 160 kg = 1 t

605 kg + 395 kg = 1 t

755 kg + 245 kg = 1 t

~~160~~ ~~195~~ ~~245~~ ~~260~~ ~~295~~ ~~345~~ ~~395~~



4 Löse im Kopf.

a) Wie viele Löwen wiegen so viel wie 2 Bisons?

6 Löwen

b) Wie viele Bisons wiegen so viel wie 2 Flusspferde?

8 Bisons

4 Was passt zusammen? Verbinde.



1 Flusspferd

2 Löwen

1 Tyrannosaurus

10 Pinguine

1 Elefant

2 Bisons

500 kg

3 t

50 kg

1 t 500 kg

7 t

4 t