

Lernzielkontrolle 1A Seite 1

Klasse: _____ erreichte Punktzahl: _____

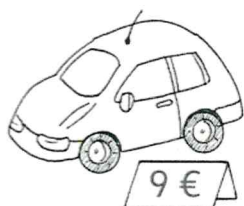
1 $2 + 6 = 8$ $8 + 3 = 11$
 $15 + 2 = 17$ $5 + 7 = 12$
 $4 + 5 = 9$ $6 + 8 = 14$
 $11 + 8 = 19$ $7 + 4 = 11$
 $17 + 1 = 18$ $8 + 9 = 17$

5

2 $9 - 4 = 5$ $14 - 5 = 9$
 $13 - 2 = 11$ $18 - 9 = 9$
 $8 - 6 = 2$ $13 - 7 = 6$
 $16 - 5 = 11$ $11 - 6 = 5$
 $17 - 3 = 14$ $12 - 8 = 4$

5


3 Sven kauft:



F: Wie viel muss Sven bezahlen?

R: $9\text{€} + 2\text{€} = 11\text{€}$

A: Sven muss 11€ bezahlen.

Maria hat: 

Sie kauft:



F: Wie viel Geld bekommt Maria zurück?

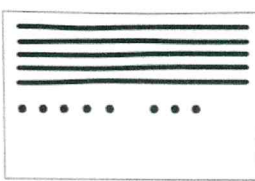
R: $7\text{€} + 12\text{€} = 19\text{€}$

$20\text{€} - 19\text{€} = 1\text{€}$

A: Maria bekommt 1€ zurück.

4 Vervollständige die Steckbriefe.

58




Z	E
5	8

$50 + 8$

achthundfünzig

66




Z	E
6	6

$60 + 6$

sechshundsechzig

42



Z	E
4	2

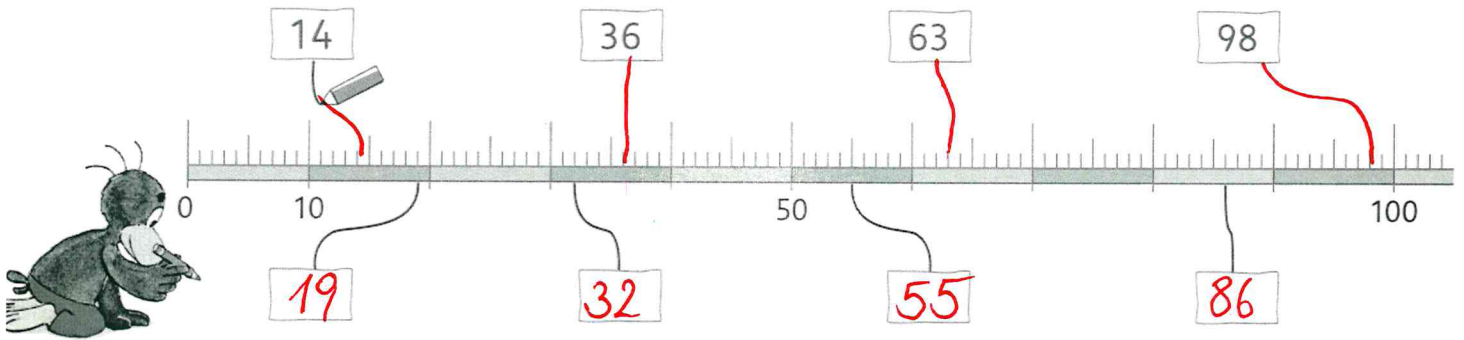
$40 + 2$

zweiundvierzig


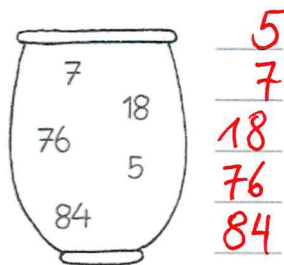
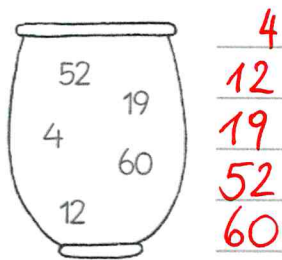
Lernzielkontrolle 1A Seite 2

Klasse: _____ erreichte Punktzahl: _____

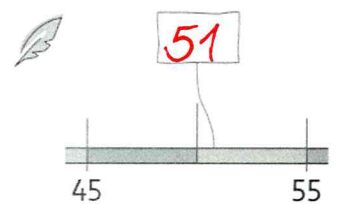
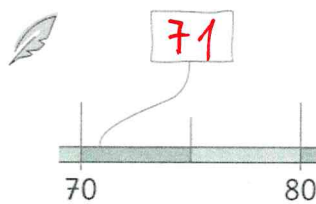

5 Ordne zu.



6 Ordne der Größe nach. Beginne mit der kleinsten Zahl.



7 Welche Zahlen sind es? Schreibe sie auf.



8

VZ	↓	NZ
20	23	30
40	46	50
60	62	70
30	37	40
80	84	90

8

9 Löse durch Probieren.

