

Lernzielkontrolle 1A Seite 1

Klasse: _____ erreichte Punktzahl: _____

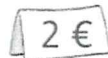
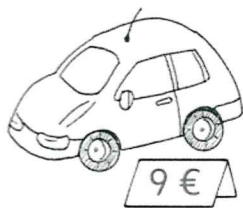
1 $2 + 6 = \underline{\quad}$ $8 + 3 = \underline{\quad}$
 $15 + 2 = \underline{\quad}$ $5 + 7 = \underline{\quad}$
 $4 + 5 = \underline{\quad}$ $6 + 8 = \underline{\quad}$
 $11 + 8 = \underline{\quad}$ $7 + 4 = \underline{\quad}$
 $17 + 1 = \underline{\quad}$ $8 + 9 = \underline{\quad}$



2 $9 - 4 = \underline{\quad}$ $14 - 5 = \underline{\quad}$
 $13 - 2 = \underline{\quad}$ $18 - 9 = \underline{\quad}$
 $8 - 6 = \underline{\quad}$ $13 - 7 = \underline{\quad}$
 $16 - 5 = \underline{\quad}$ $11 - 6 = \underline{\quad}$
 $17 - 3 = \underline{\quad}$ $12 - 8 = \underline{\quad}$



3 Sven kauft:



F: Wie viel muss Sven bezahlen?

R:

A:

Maria hat:



Sie kauft:



F: Wie viel Geld bekommt Maria zurück?

R:

A:

4 Vervollständige die Steckbriefe.

58

Z	E

___ + ___

Z	E

60 + 6

Z	E

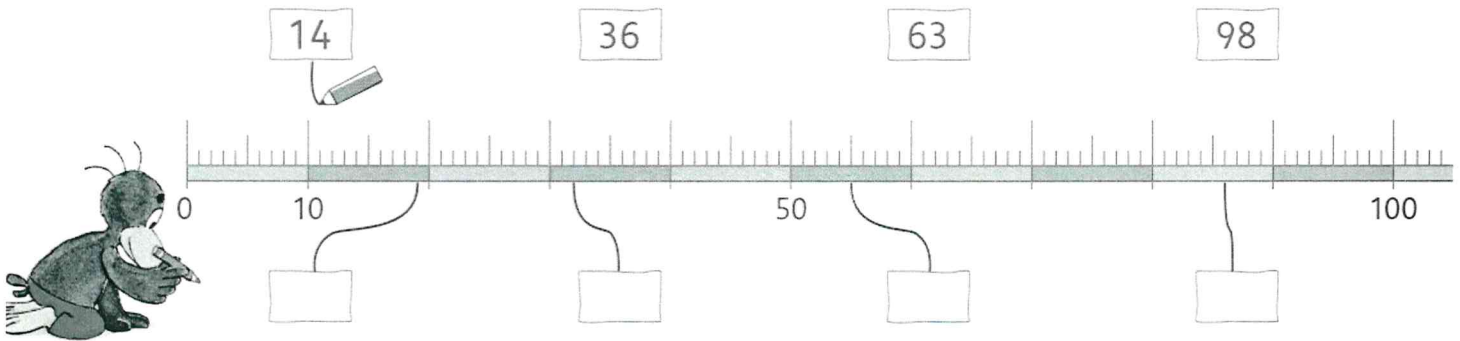
___ + ___

zweiundvierzig

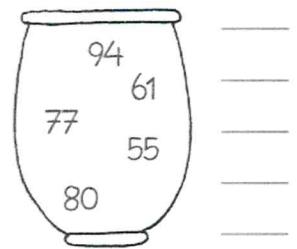
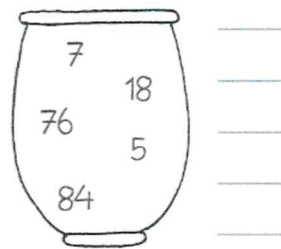
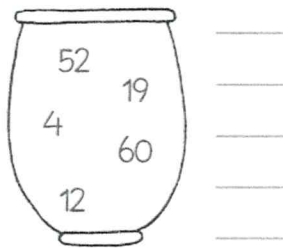
Lernzielkontrolle 1A Seite 2

Klasse: _____ erreichte Punktzahl: _____

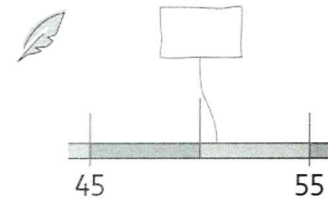
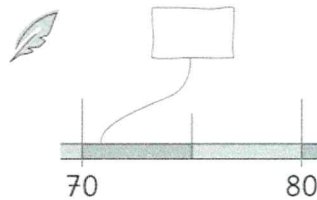
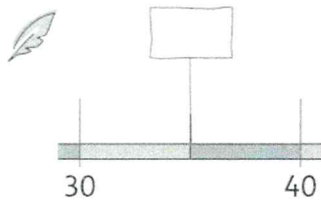
5 Ordne zu.



6 Ordne der Größe nach. Beginne mit der kleinsten Zahl.



7 Welche Zahlen sind es? Schreibe sie auf.



8

VZ	↓	NZ
20		30
40		50
60		
		40
80		

8

9 Löse durch Probieren.

